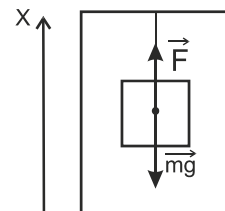


# Варианты заданий заключительного этапа олимпиады в 2013/2014 учебном году

## Заключительный 9 класс (2013/14)

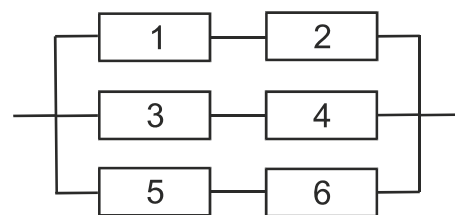
### Вариант 1

**Задача 1 (2 балла).** Груз массы  $m = 1$  кг подвешен на нити к потолку кабины движущегося лифта. Груз действует на нить с силой  $F^* = 5$  Н. Найти величину и направление ускорения лифта. Считать для простоты вычислений  $g = 10$  м/с<sup>2</sup>.



**Задача 2 (3 балла).** Для того, чтобы нагреть в сосуде лед, имеющий начальную температуру  $T_0 = -50^\circ\text{C}$ , до температуры плавления ( $T = 0^\circ\text{C}$ ) и превратить его полностью в воду, потребовалось время  $t = 5$  мин. В течение какого времени  $t_{\text{таяния}}$  таял лед? Тепло к сосуду подводилось равномерно (пропорционально времени). Тепловые потери отсутствуют. Удельная теплота плавления льда  $\lambda = 2,5 \cdot 10^4$  Дж/кг. Удельная теплоемкость льда  $c = 2,1 \cdot 10^3$  Дж/(кг·К).

**Задача 3 (4 балла).** На каком из сопротивлений в схеме, представленной на рисунке, выделяется минимальная мощность в виде тепла?  $R_1 = 1$  Ом,  $R_2 = 2$  Ом,  $R_3 = 3$  Ом,  $R_4 = 4$  Ом,  $R_5 = 5$  Ом,  $R_6 = 6$  Ом. Найти эту минимальную мощность  $P_{\text{мин}}$ , если ко всей цепи указанной схемы приложено напряжение  $U = 100$  В.



**Задача 4 (2 балла).** Начальная скорость прямолинейно и равноускоренно движущегося тела равна  $v_0$ . Известно, что скорость тела возрастает в 2 раза на расстоянии  $S$  от начальной точки. Через какое время  $\tau$  скорость тела увеличится в  $n$  раз?

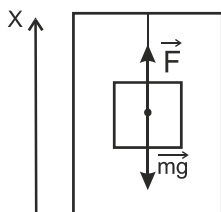
**Задача 5 (5 баллов).** Самолет движется по прямой между городами А и В туда и обратно. Скорость самолета относительно воздуха постоянна и равна  $v$ . Под некоторым углом  $\alpha$  к прямой АВ во время всего полета дует ветер с постоянной скоростью  $u$ . При каких значениях угла  $\alpha$  время полета самолета  $t_{\text{макс}}$  между городами А и В туда и обратно будет максимальным? Найти максимальное время  $t_{\text{макс}}$  полета самолета туда и обратно. Ответ обоснуйте математически. Считать, что время разворота самолета в пункте В пренебрежимо мало по сравнению со временем всего полета.

### Решения задач 1 варианта 9 класса (2013/14)

**Задача 1.** Груз массы  $m = 1$  кг подвешен на нити к потолку кабины движущегося лифта. Груз действует на нить с силой  $F^* = 5$  Н. Найти величину и направление ускорения лифта. Считать для простоты вычислений  $g = 10$  м/с<sup>2</sup>.

Решение:

Обозначим на рисунке силы, действующие на груз. Направим ось X вертикально вверх.



Запишем в векторном виде уравнение движения груза.

$$m\vec{a} = \vec{\phi} + m\vec{g}$$

Запишем в проекции на ось X уравнение движения груза, и решим его относительно  $a_x$ .

$$ma_x = \phi + mg$$

$$\phi = F$$

$$a_x = \frac{F}{m} - g$$

После подстановки численных значений получаем:

$$a_x = \frac{5}{1} - 10 = -5 \frac{м}{с^2}$$

Отрицательное  $a_x$  говорит о том, что лифт движется вниз.

$$a_x = |a_x| = g - \frac{F}{m} = 5 \frac{м}{с^2}$$

Ответ: лифт едет вниз;  $a_x = g - \frac{F}{m} = 5 \frac{м}{с^2}$ .

**Задача 2.** Для того, чтобы нагреть в сосуде лед, имеющий начальную температуру  $T_0 = -50^{\circ}C$ , до температуры плавления ( $T = 0^{\circ}C$ ) и превратить его полностью в воду, потребовалось время  $t = 5$  мин. В течение какого времени  $t_{\text{таяния}}$  таял лед? Тепло к сосуду подводилось равномерно (пропорционально времени). Тепловые потери отсутствуют. Удельная теплота плавления льда  $\lambda = 2,5 \cdot 10^4$  Дж/кг. Удельная теплоемкость льда  $c = 2,1 \cdot 10^3$  Дж/(кг·К).

Решение:

Запишем тепловой баланс как для всего процесса (нагрев + таяние льда), так и для части процесса (только таяние льда), учитывая пропорциональность по времени подвода тепла к сосуду ( $\alpha$  – коэффициент пропорциональности).

$$\begin{cases} m\lambda + cm(T - T_0) = Q = \alpha t \\ \lambda m = Q_{\text{ТАЯН}} = \alpha t_{\text{ТАЯН}} \end{cases}$$

Поделим второе уравнение на первое:

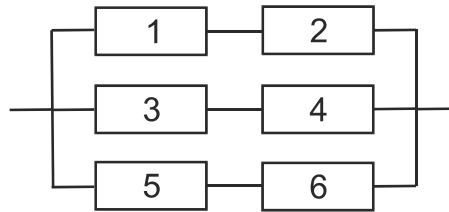
$$\frac{t_{\text{ТАЯН}}}{t} = \frac{\lambda m}{m\lambda + cm(T - T_0)}$$

В результате получим:

$$t_{\text{ТАЯН}} = \frac{\lambda t}{\lambda + c(T - T_0)} = \frac{2.5 \cdot 10^4 \cdot 5 (\text{мин})}{2.5 \cdot 10^4 + 2.1 \cdot 10^3 \cdot 50} = 0.96 \approx 1 \text{ мин}$$

Ответ:  $t_{\text{ТАЯН}} = \frac{\lambda t}{\lambda + c(T - T_0)} = \frac{2.5 \cdot 10^4 \cdot 5 (\text{мин})}{2.5 \cdot 10^4 + 2.1 \cdot 10^3 \cdot 50} = 0.96 \approx 1 \text{ мин}$

**Задача 3.** На каком из сопротивлений в схеме, представленной на рисунке, выделяется минимальная мощность в виде тепла?  $R_1 = 1 \text{ Ом}$ ,  $R_2 = 2 \text{ Ом}$ ,  $R_3 = 3 \text{ Ом}$ ,  $R_4 = 4 \text{ Ом}$ ,  $R_5 = 5 \text{ Ом}$ ,  $R_6 = 6 \text{ Ом}$ . Найти эту минимальную мощность  $P_{\text{мин}}$ , если ко всей цепи указанной схемы приложено напряжение  $U = 100 \text{ В}$ .



Решение:

Найдем сопротивление каждой ветви смешанного соединения сопротивлений и токи, текущие в каждой из ветвей:

$$R_{12} = R_1 + R_2; \quad I_{12} = \frac{U}{R_{12}}$$

$$R_{34} = R_3 + R_4; \quad I_{34} = \frac{U}{R_{34}}$$

$$R_{56} = R_5 + R_6; \quad I_{56} = \frac{U}{R_{56}}$$

Согласно закону Джоуля-Ленца запишем мощность, выделяемую каждым из сопротивлений:

$$P_i = R_i I_i^2 = \frac{R_i U^2}{R_{12}^2}, \quad i = 1, 2$$

$$P_j = R_j I_j^2 = \frac{R_j U^2}{R_{12}^2}, \quad j = 3, 4$$

$$P_k = R_k I_k^2 = \frac{R_k U^2}{R_{12}^2}, k = 5, 6$$

Очевидно, что в каждой ветви цепи минимальное по номиналу сопротивление выделяет минимальную мощность:

$$P_1 = \min\{P_1, P_2\}; P_3 = \min\{P_3, P_4\}; P_5 = \min\{P_5, P_6\};$$

Приведенный ниже расчет дает, что 5-е сопротивление выделяет минимальную мощность:

$$P_5 - P_1 = U^2 \left[ \frac{R_5}{R_{56}^2} - \frac{R_1}{R_{12}^2} \right] = 10^4 \left[ \frac{5}{121} - \frac{1}{9} \right] < 0;$$

$$P_5 - P_3 = U^2 \left[ \frac{R_5}{R_{56}^2} - \frac{R_3}{R_{34}^2} \right] = 10^4 \left[ \frac{5}{121} - \frac{3}{49} \right] < 0;$$

$$P_{\min} = P_5 = U^2 \frac{R_5}{R_{56}^2} = \frac{10^4 * 5}{121} = 413 \text{ Вт.}$$

Ответ:  $P_{\min} = P_5 = \frac{U^2 R_5}{(R_5 + R_6)^2} = 413 \text{ Вт.}$

*Задача 4.* Начальная скорость прямолинейно и равноускоренно движущегося тела равна  $v_0$ . Известно, что скорость тела возрастает в 2 раза на расстоянии  $S$  от начальной точки. Через какое время  $\tau$  скорость тела увеличится в  $n$  раз?

Решение:

Используя известное кинематическое соотношение (для равноускоренного движения) и первое условие задачи (о соотношении конечной и начальной скоростей), найдем ускорение тела.

$$S = \frac{V^2 - V_0^2}{2a} = \frac{4V_0^2 - V_0^2}{2a} = \frac{3}{2} * \frac{V_0^2}{a};$$

$$a = \frac{3}{2} * \frac{V_0^2}{S};$$

Используем второе условие задачи:

$$nV_0 = V_0 + a\tau;$$

$$(n - 1)V_0 = a\tau;$$

В результате получаем:

$$\tau = \frac{(n - 1)V_0}{a} = \frac{2(n - 1)S}{3V_0};$$

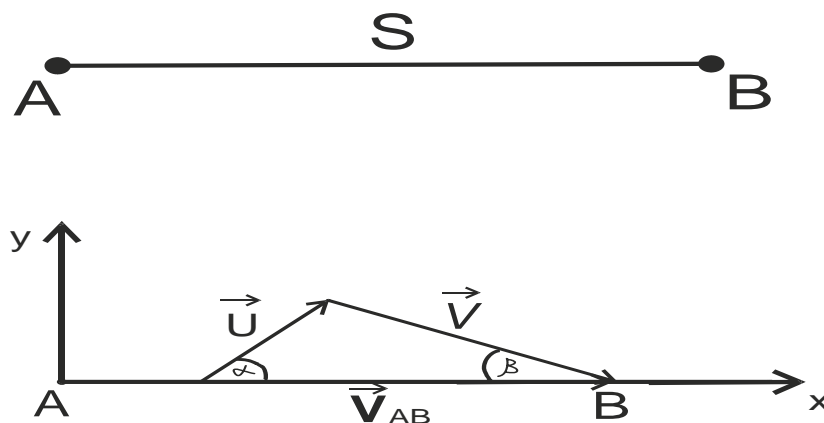
Ответ:  $\tau = \frac{2(n - 1)S}{3V_0}$

**Задача 5.** Самолет движется по прямой между городами А и В туда и обратно. Скорость самолета относительно воздуха постоянна и равна  $v$ . Под некоторым углом  $\alpha$  к прямой АВ во время всего полета дует ветер с постоянной скоростью  $u$ . При каких значениях угла  $\alpha$  время полета самолета  $t_{\text{макс}}$  между городами А и В туда и обратно будет максимальным? Найти максимальное время  $t_{\text{макс}}$  полета самолета туда и обратно. Ответ обоснуйте математически. Считать, что время разворота самолета в пункте В пренебрежимо мало по сравнению со временем всего полета.

Решение:

Выберем две взаимно перпендикулярные оси системы координат так, чтобы одна из них (ось X) совпала бы с физически выделенным направлением задачи (направлением движения самолета из пункта А в пункт В), а другая ось (ось Y) вместе с осью X составила бы плоскость, параллельную поверхности земли.

Заметим, что результирующая скорость движения самолета должна быть направлена вдоль оси X. Поэтому летчик должен все время направлять самолет под некоторым углом  $\beta$  к оси X (см. рисунок).



$\vec{V}$  - скорость самолёта (результующая)

$\vec{U}$  - скорость ветра

$\vec{v}$  - скорость самолёта относительно воздуха

Запишем результирующую скорость самолета:

$$\vec{V}_{AB} = \vec{U} + \vec{v}_{AB}$$

Распишем результирующую скорость самолета в проекциях на оси координат, и найдем попутно угол  $\beta$  и результирующую скорость самолета при перелете из пункта А в пункт В:

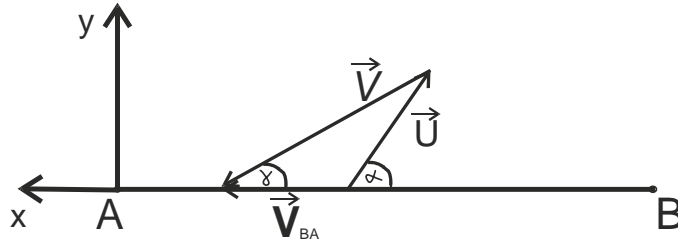
$$V_{ABx} = U \sin \alpha - v \sin \beta = 0 \Rightarrow \sin \beta = \frac{U}{v} \sin \alpha;$$

$$V_{ABx} = U \cos \alpha + \mathcal{V} \cos \beta = U \cos \alpha + \mathcal{V} \sqrt{1 - \left(\frac{U}{\mathcal{V}}\right)^2 \sin^2 \alpha};$$

Найдем время полета самолета из пункта А в пункт В:

$$t_{AB} = \frac{S}{V_{AB}} = \frac{S}{U \cos \alpha + \mathcal{V} \sqrt{1 - \left(\frac{U}{\mathcal{V}}\right)^2 \sin^2 \alpha}};$$

Проведя аналогичные геометрические построения, рассуждения и вычисления, найдем время полета самолета из пункта В в пункт А.



$$\vec{V}_{BA} = \vec{U} + \vec{v}_{BA}$$

$$V_{BAy} = U \sin \alpha - \mathcal{V} \sin \gamma = 0 \Rightarrow \sin \gamma = \frac{U}{\mathcal{V}} \sin \alpha;$$

$$V_{BAx} = \mathcal{V} \cos \gamma - U \cos \alpha = \mathcal{V} \sqrt{1 - \left(\frac{U}{\mathcal{V}}\right)^2 \sin^2 \alpha} - U \cos \alpha;$$

$$t_{BA} = \frac{S}{V_{BA}} = \frac{S}{\mathcal{V} \sqrt{1 - \left(\frac{U}{\mathcal{V}}\right)^2 \sin^2 \alpha} - U \cos \alpha};$$

Вычислим полное время полета самолета (туда и обратно):

$$\begin{aligned} t_{\text{пол}} = t_{AB} + t_{BA} &= \frac{S}{U \cos \alpha + \mathcal{V} \sqrt{1 - \left(\frac{U}{\mathcal{V}}\right)^2 \sin^2 \alpha}} + \frac{S}{\mathcal{V} \sqrt{1 - \left(\frac{U}{\mathcal{V}}\right)^2 \sin^2 \alpha} - U \cos \alpha} \\ &= \frac{2S\mathcal{V} \sqrt{1 - \frac{U^2}{\mathcal{V}^2} \sin^2 \alpha}}{\mathcal{V}^2 \left[1 - \left(\frac{U}{\mathcal{V}}\right)^2 \sin^2 \alpha\right] - U^2 \cos^2 \alpha} = \frac{2S\mathcal{V} \sqrt{1 - \left(\frac{U}{\mathcal{V}}\right)^2 \sin^2 \alpha}}{\mathcal{V}^2 - U^2}; \end{aligned}$$

Анализируя полученное выражение для  $t_{\text{пол}}$ , видим, что оно будет максимальным (при заданных  $\mathcal{V}$ ,  $S$ ,  $U$ ) тогда, когда числитель выражения будет максимальным (т.е. когда  $\sin \alpha = 0$ ):

$$t_{\text{пол.макс}} = t_{\text{пол}}(\alpha = 0, \pi);$$

Тогда мы можем вычислить и само время при этих углах направления ветра:

$$t_{\text{пол.макс}} = \frac{2S\mathcal{V}}{\mathcal{V}^2 - U^2}; \text{ Ответ: } t_{\text{макс}} = \frac{2S\mathcal{V}}{\mathcal{V}^2 - U^2}, \text{ при } \alpha = 0, \pi;$$